










Erste Klasse



RECHNEN BIS 20

1.

	Geige		Trommel		Horn
---	-------	---	---------	---	------

	
4	4

	
3	3

	
2	2

Aufgaben

für den Mathematikunterricht

Arbeitsblätter



$$\begin{array}{c} \text{Violin} \quad \text{Violin} \quad \text{Violin} \\ - \quad \text{Violin} \\ \hline = 2 \end{array}$$

$$\begin{array}{c} \text{Violin} \quad \text{Violin} \quad \text{Violin} \quad \text{Violin} \quad \text{Violin} \\ - \quad \text{Violin} \\ \hline = \end{array}$$

$$\begin{array}{c} \text{Drum} \quad \text{Drum} \quad \text{Drum} \\ - \quad \text{Drum} \quad \text{Drum} \quad \text{Drum} \\ \hline = \end{array}$$

$$\begin{array}{c} \text{B} \quad \text{B} \\ - \quad \text{B} \quad \text{B} \\ \hline = \end{array}$$

$$\begin{array}{c} \text{Violin} \quad \text{Violin} \quad \text{Violin} \quad \text{Violin} \\ - \quad \text{Violin} \quad \text{Violin} \quad \text{Violin} \\ \hline = \end{array}$$

$$\begin{array}{c} \text{Drum} \quad \text{Drum} \quad \text{Drum} \\ - \quad \text{Drum} \\ \hline = \end{array}$$

$$\begin{array}{c} \text{Violin} \quad \text{Violin} \\ - \quad \text{Violin} \\ \hline = \end{array}$$

$$\begin{array}{c} \text{B} \quad \text{B} \\ - \quad \text{B} \\ \hline = \end{array}$$

Aufgaben

für den Mathematikunterricht

Arbeitsblätter



$$\begin{array}{c} \text{Violin} \quad \text{Violin} \quad + \quad \text{Violin} \quad \text{Violin} \quad = \quad 4 \end{array}$$

$$\begin{array}{c} \text{Drum} \quad \text{Drum} \quad + \quad \text{Drum} \quad \text{Drum} \quad = \end{array}$$

$$\begin{array}{c} \text{Drum} \quad \text{Drum} \quad \text{Drum} \quad + \quad \text{Drum} \quad = \end{array}$$

$$\begin{array}{c} \text{Violin} \quad + \quad \text{Violin} \quad \text{Violin} \quad = \end{array}$$

$$\begin{array}{c} \text{Violin} \quad \text{Violin} \quad + \quad \text{Violin} \quad \text{Violin} \quad \text{Violin} \quad = \end{array}$$

$$\begin{array}{c} \text{Drum} \quad \text{Drum} \quad \text{Drum} \quad + \quad \text{Drum} \quad \text{Drum} \quad \text{Drum} \quad = \end{array}$$

$$\begin{array}{c} \text{Violin} \quad \text{Violin} \quad + \quad \text{Violin} \quad \text{Violin} \quad \text{Violin} \quad = \end{array}$$

$$\begin{array}{c} \text{Violin} \quad \text{Violin} \quad \text{Violin} \quad \text{Violin} \quad \text{Violin} \quad + \quad \text{Violin} \quad \text{Violin} \quad = \end{array}$$

$$\begin{array}{c} \text{Violin} \quad \text{Violin} \quad \text{Violin} \quad \text{Violin} \quad \text{Violin} \quad + \quad \text{Violin} \quad \text{Violin} \quad \text{Violin} \quad \text{Violin} \quad = \end{array}$$

$$\begin{array}{c} \text{Drum} \quad \text{Drum} \quad \text{Drum} \quad + \quad \text{Drum} \quad \text{Drum} \quad = \end{array}$$

Aufgaben

für den Mathematikunterricht

Arbeitsblätter



2. Auf einer Orchesterbühne liegen 6 Geigen, 1 Flöte, 1 Cello, 2 Hörner und 2 Oboen. Wieviele Instrumente liegen insgesamt auf der Bühne?
3. Auf einer Orchesterbühne liegen 6 Geigen, 1 Flöte, 1 Cello, 2 Hörner und 2 Oboen. Der Dirigent läßt 2 Geigen und 1 Horn von der Bühne bringen. Wieviele Instrumente bleiben noch auf der Bühne liegen?
4. Ein Orchester besitzt 5 Trommeln. Leider sind 3 davon kaputt. Wieviele gute Trommeln bleiben übrig, die beim Konzert verwendet werden können?
5. Beim Komponieren benötigte Joseph Haydn viele Notenblätter. Eines Tages verbrauchte er am Vormittag 5 Notenblätter. Wieviele Notenblätter verbrauchte er im Laufe des ganzen Tages, wenn er am Nachmittag die doppelte Menge des Vormittages benötigte?
6. Auf einem Klavier liegen 6 Notenblätter. Joseph Haydn bringt zwei davon zum Fürsten Esterházy. Wieviele Notenblätter bleiben noch auf dem Klavier ... liegen?
7. Im Orchester spielen 3 Trompeter, 2 Hornisten, 4 Geiger, 2 Flötisten, 7 Oboisten und 1 Trommler. Wieviele Personen spielen insgesamt im Orchester?
8. Das Orchester hat 9 Mitglieder. Am Ende der Probe gehen zuerst die 4 Trompeter und dann die 2 Trommler nach Hause. Wieviele Musiker sind dageblieben?